

Nom : \_\_\_\_\_

## QU'EST-CE QUI MANQUE?

Parfois, il est logique de compter vers l'avant pour savoir ce qui manque!

Il y avait:

Et maintenant il y a:

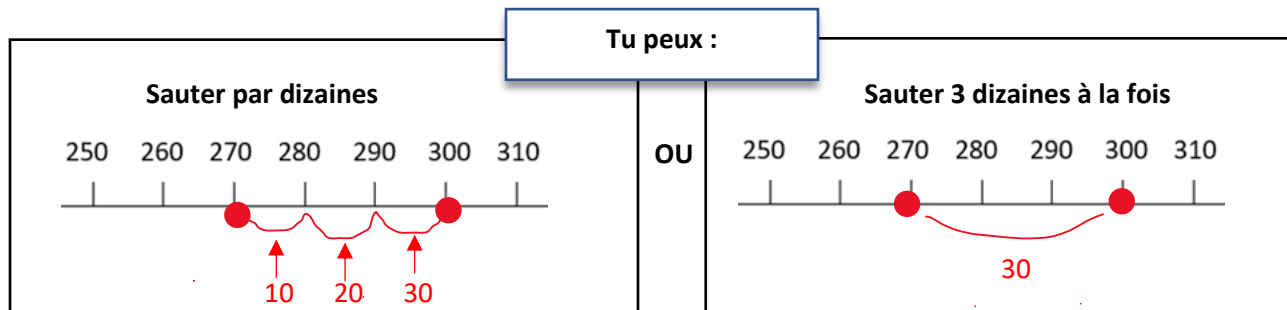
**300** 

Combien manquent-ils d'espaces

**270** 

**Étape 1 :** Mets un point sur 300 et un point sur 270.

**Étape 2 :** Saute de 270 et 300 pour savoir ce qui manque



Il y avait :

Et maintenant, il y a :

**300** 

Combien manquent-ils d'espace!

**230** 



Qu'est-ce que tu as trouvé ? \_\_\_\_\_ blocs sont manquants !

Il y avait :

Et maintenant, il y a :

**300** 

Combien manquent-ils d'espaces

**250** 



Qu'est-ce que tu as trouvé ? \_\_\_\_\_ blocs sont manquants !

Nom : \_\_\_\_\_

Il y avait :

Et maintenant, il y a :

**400** 

**310** 

Combien manquent-ils d'espaces ?



Qu'est-ce que tu as trouvé ? \_\_\_\_\_ blocs sont manquants !

Il y avait :

Et maintenant, il y a :

**400** 

**360** 

Combien manquent-ils d'espaces ?



Qu'est-ce que tu as trouvé ? \_\_\_\_\_ blocs sont manquants !

Il y avait :

Et maintenant, il y a :

**400** 

**340** 

Combien manquent-ils d'espaces ?



Qu'est-ce que tu as trouvé ? \_\_\_\_\_ blocs sont manquants !

Il y avait :

Et maintenant, il y a :

**400** 

**390** 

Combien manquent-ils d'espaces ?



Qu'est-ce que tu as trouvé ? \_\_\_\_\_ blocs sont manquants !

Nom : \_\_\_\_\_

## QU'EST-CE QUI MANQUE?

Parfois, il est logique de compter vers l'avant pour savoir ce qui manque!

Il y avait :

300 

Et maintenant, il y a :

40 

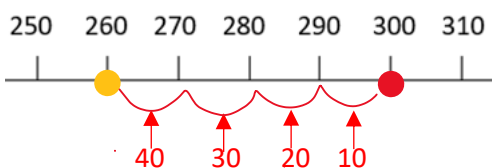
Combien manquent-ils d'espaces ?

**Étape 1:** Mets un point sur 300

**Étape 2:** À partir de 300, compte 4 dizaines pour savoir ce qui manque

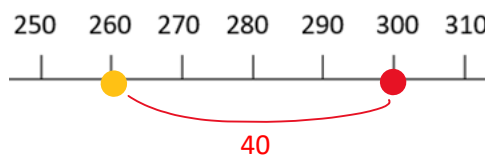
Tu peux :

Compter par dizaines



OR

Compter par 4 dizaines à la fois



Qu'est-ce que tu as trouvé ? \_\_\_\_\_ blocs sont manquants !

Il y avait :

400 

Et maintenant, il y a :

70 

Combien manquent-ils d'espaces ?



Qu'est-ce que tu as trouvé ? \_\_\_\_\_ blocs sont manquants !

Il y avait :

300 

Et maintenant, il y a :

20 

Combien manquent-ils d'espaces ?



Qu'est-ce que tu as trouvé ? \_\_\_\_\_ blocs sont manquants !

Nom : \_\_\_\_\_

Il y avait :

Et maintenant, il y a :

**400** 

**50** 

Combien manquent-ils d'espaces ?



Qu'est-ce que tu as trouvé ? \_\_\_\_\_ blocs sont manquants !

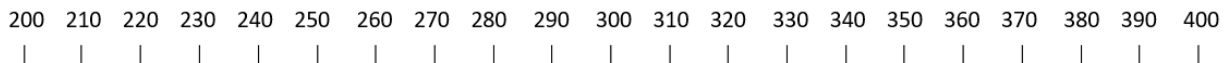
Il y avait :

Et maintenant, il y a :

**300** 

**80** 

Combien manquent-ils d'espaces ?



Qu'est-ce que tu as trouvé ? \_\_\_\_\_ blocs sont manquants !

Il y avait :

Et maintenant, il y a :

**400** 

**10** 

Combien manquent-ils d'espaces ?



Qu'est-ce que tu as trouvé ? \_\_\_\_\_ blocs sont manquants !

Il y avait :

Et maintenant, il y a :

**300** 

**60** 

Combien manquent-ils d'espaces ?



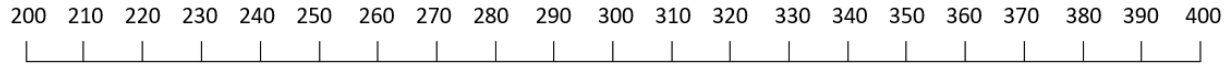
Qu'est-ce que tu as trouvé ? \_\_\_\_\_ blocs sont manquants !

Nom : \_\_\_\_\_



 **QU'EST-CE QUI MANQUE?** 

Dois-tu compter en arrière ou en avant? À toi de décider !

Utilise la ligne de nombre pour sauter vers l'avant ou en arrière avec de grands ou petits sauts. Tu peux également imaginer une ligne de nombre.





Il y avait :      Et maintenant, il y a :

**330**       **270** 

Combien en manquent-ils ? \_\_\_\_\_

As-tu compté en avant ou en arrière ?



Il y avait :      Et maintenant, il y a :

**390**       **40** 

Combien en manquent-ils ? \_\_\_\_\_

As-tu compté en avant ou en arrière ?



Il y avait :      Et maintenant, il y a :

**320**       **30** 

Combien en manquent-ils ? \_\_\_\_\_

As-tu compté en avant ou en arrière ?



Il y avait :      Et maintenant, il y a :

**310**       **220** 

Combien en manquent-ils ? \_\_\_\_\_

As-tu compté en avant ou en arrière ?



Il y avait :      Et maintenant, il y a :

**380**       **340** 

Combien en manquent-ils ? \_\_\_\_\_

As-tu compté en avant ou en arrière ?



Il y avait :      Et maintenant, il y a :

**360**       **70** 

Combien en manquent-ils ? \_\_\_\_\_

As-tu compté en avant ou en arrière ?



Il y avait :      Et maintenant, il y a :

**250**       **30** 

Combien en manquent-ils ? \_\_\_\_\_

As-tu compté en avant ou en arrière ?

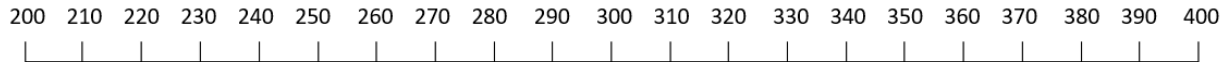
Il y avait :      Et maintenant, il y a :

**310**       **90** 



Combien en manquent-ils ? \_\_\_\_\_

As-tu compté en avant ou en arrière ?

Nom : \_\_\_\_\_





Il y avait : Et maintenant, il y a :

**380**  **40** 

Combien en manquent-ils ? \_\_\_\_\_

As-tu compté en avant ou en arrière ?



Il y avait : Et maintenant, il y a :

**370**  **210** 

Combien en manquent-ils ? \_\_\_\_\_

As-tu compté en avant ou en arrière ?



Il y avait : Et maintenant, il y a :

**360**  **250** 

Combien en manquent-ils ? \_\_\_\_\_

As-tu compté en avant ou en arrière ?



Il y avait : Et maintenant, il y a :

**300**  **10** 

Combien en manquent-ils ? \_\_\_\_\_

As-tu compté en avant ou en arrière ?



Il y avait : Et maintenant, il y a :

**390**  **90** 

Combien en manquent-ils ? \_\_\_\_\_

As-tu compté en avant ou en arrière ?



Il y avait : Et maintenant, il y a :

**310**  **80** 

Combien en manquent-ils ? \_\_\_\_\_

As-tu compté en avant ou en arrière ?



Il y avait : Et maintenant, il y a :

**360**  **320** 

Combien en manquent-ils ? \_\_\_\_\_

As-tu compté en avant ou en arrière ?



Il y avait : Et maintenant, il y a :

**320**  **290** 

Combien en manquent-ils ? \_\_\_\_\_

As-tu compté en avant ou en arrière ?



Il y avait : Et maintenant, il y a :

**380**  **40** 

Combien en manquent-ils ? \_\_\_\_\_

As-tu compté en avant ou en arrière ?

Il y avait : Et maintenant, il y a :

**330**  **10** 

Combien en manquent-ils ? \_\_\_\_\_

As-tu compté en avant ou en arrière ?