

Nom : _____

QU'EST-CE QUI MANQUE?

Parfois, il est logique de compter vers l'avant pour savoir ce qui manque!

Il y avait :

Et maintenant, il y a :

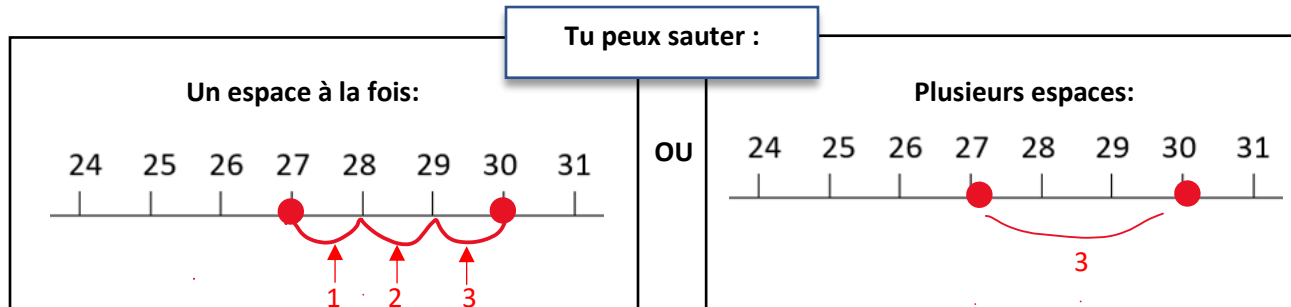
30 

27 

Combien manquent-ils d'espaces ?

Étape 1 : Mets un point sur 27 et un point sur 30.

Étape 2 : Saute entre 27 et 30 pour savoir ce qui manque.



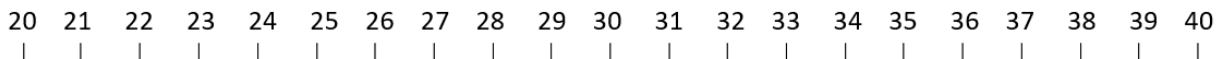
Il y avait :

Et maintenant, il y a :

30 

24 

Combien manquent-ils d'espaces?



Qu'est-ce que tu as trouvé ? _____ blocs sont manquants !

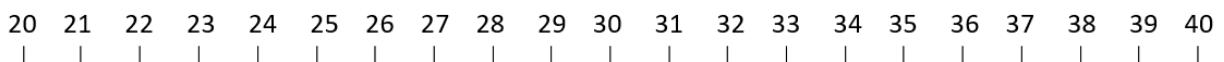
Il y avait :

Et maintenant, il y a :

30 

26 

Combien manquent-ils d'espaces?



Qu'est-ce que tu as trouvé ? _____ blocs sont manquants !

Nom : _____

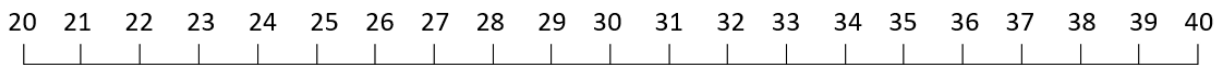
Il y avait :

Et maintenant, il y a :

40 

34 

Combien manquent-ils d'espaces ?



Qu'est-ce que tu as trouvé ? _____ blocs sont manquants !

Il y avait :

Et maintenant, il y a :

30 

25 

Combien manquent-ils d'espaces ?



Qu'est-ce que tu as trouvé ? _____ blocs sont manquants !

Il y avait :

Et maintenant, il y a :

40 

38 

Combien manquent-ils d'espaces ?



Qu'est-ce que tu as trouvé ? _____ blocs sont manquants !

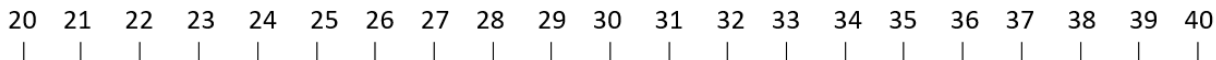
Il y avait :

Et maintenant, il y a :

30 

32 

Combien manquent-ils d'espaces ?



Qu'est-ce que tu as trouvé ? _____ blocs sont manquants !

Nom : _____

QU'EST-CE QUI MANQUE?

Parfois, il est logique de compter vers l'avant pour savoir ce qui manque!

Il y avait :

30 

Et maintenant, il y a :

2 

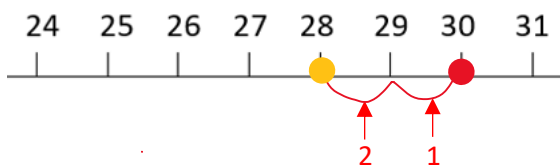
Combien manquent-ils d'espaces ?

Étape 1 : Mets un point sur 30

Étape 2 : À partir de 30, compte deux espaces pour savoir ce qui manque

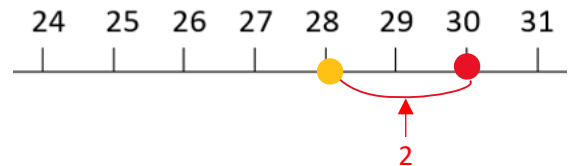
Tu peux compter :

Un espace à la fois :



OU

Plusieurs espaces:



Qu'est-ce que tu as trouvé ? _____ blocs sont manquants !

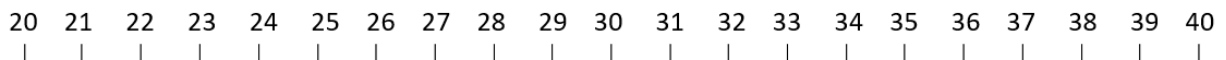
Il y avait :

40 

Et maintenant, il y a :

3 

Combien manquent-ils d'espaces?



Qu'est-ce que tu as trouvé ? _____ blocs sont manquants !

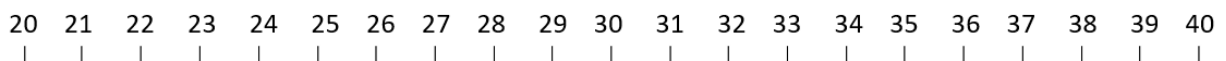
Il y avait :

30 

Et maintenant, il y a :

5 

Combien manquent-ils d'espaces?



Qu'est-ce que tu as trouvé ? _____ blocs sont manquants !

Nom : _____

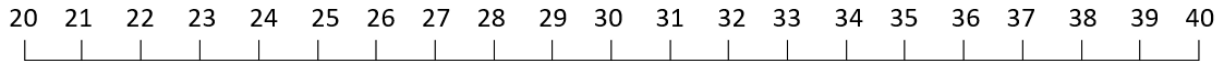
Il y avait :

40 

Et maintenant, il y a :

7 

Combien manquent-ils d'espaces ?



Qu'est-ce que tu as trouvé ? _____ blocs sont manquants !

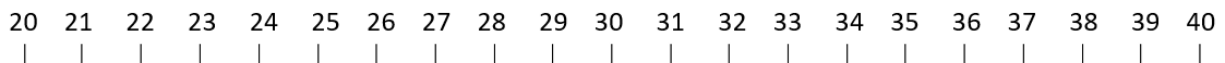
Il y avait :

30 

Et maintenant, il y a :

9 

Combien manquent-ils d'espaces?



Qu'est-ce que tu as trouvé ? _____ blocs sont manquants !

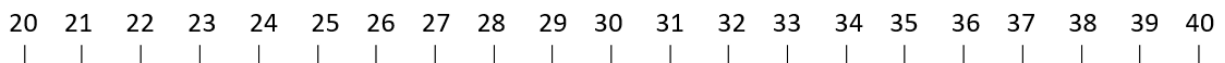
Il y avait :

40 

Et maintenant, il y a :

4 

Combien manquent-ils d'espaces?



Qu'est-ce que tu as trouvé ? _____ blocs sont manquants !

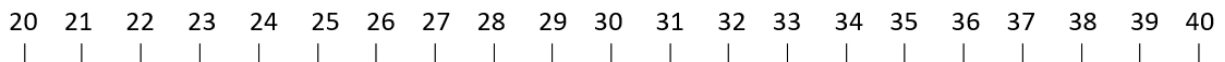
Il y avait :

30 

Et maintenant, il y a :

6 

Combien manquent-ils d'espaces?



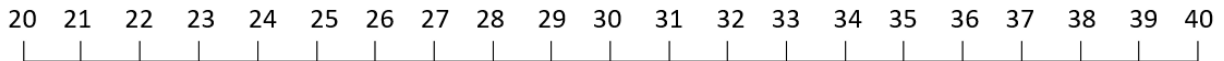
Qu'est-ce que tu as trouvé ? _____ blocs sont manquants !

Nom : _____

 QU'EST-CE QUI MANQUE? 

Dois-tu compter en arrière ou en avant? À toi de décider!

Utilise la ligne de nombre pour sauter vers l'avant ou en arrière avec de grands ou petits sauts. Tu peux également imaginer une ligne de nombre.



Il y avait : Et maintenant, il y a :

32  **27** 

Combien en manquent-ils ? _____

As-tu compté en avant ou en arrière ?

Il y avait : Et maintenant, il y a :

29  **2** 

Combien en manquent-ils ? _____

As-tu compté en avant ou en arrière ?

Il y avait : Et maintenant, il y a :

39  **3** 

Combien en manquent-ils ? _____

As-tu compté en avant ou en arrière ?

Il y avait : Et maintenant, il y a :

34  **28** 

Combien en manquent-ils ? _____

As-tu compté en avant ou en arrière ?

Il y avait : Et maintenant, il y a :

25  **4** 

Combien en manquent-ils ? _____

As-tu compté en avant ou en arrière ?

Il y avait : Et maintenant, il y a :

35  **1** 

Combien en manquent-ils ? _____

As-tu compté en avant ou en arrière ?

Il y avait : Et maintenant, il y a :

28  **24** 

Combien en manquent-ils ? _____

As-tu compté en avant ou en arrière ?

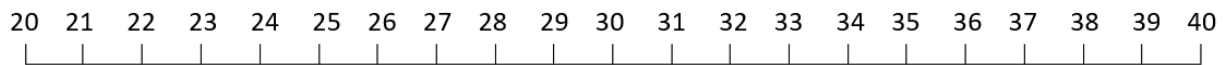
Il y avait : Et maintenant, il y a :

36  **31** 



Combien en manquent-ils ? _____

As-tu compté en avant ou en arrière ?

Nom : _____





Il y avait : Et maintenant, il y a :

33  **31** 

Combien en manquent-ils ? _____

As-tu compté en avant ou en arrière ?



Il y avait : Et maintenant, il y a :

39  **2** 

Combien en manquent-ils ? _____

As-tu compté en avant ou en arrière ?



Il y avait : Et maintenant, il y a :

27  **5** 

Combien en manquent-ils ? _____

As-tu compté en avant ou en arrière ?



Il y avait : Et maintenant, il y a :

31  **26** 

Combien en manquent-ils ? _____

As-tu compté en avant ou en arrière ?



Il y avait : Et maintenant, il y a :

24  **3** 

Combien en manquent-ils ? _____

As-tu compté en avant ou en arrière ?



Il y avait : Et maintenant, il y a :

35  **27** 

Combien en manquent-ils ? _____

As-tu compté en avant ou en arrière ?



Il y avait : Et maintenant, il y a :

33  **29** 

Combien en manquent-ils ? _____

As-tu compté en avant ou en arrière ?



Il y avait : Et maintenant, il y a :

36  **4** 

Combien en manquent-ils ? _____

As-tu compté en avant ou en arrière ?



Il y avait : Et maintenant, il y a :

38  **29** 

Combien en manquent-ils ? _____

As-tu compté en avant ou en arrière ?

Il y avait : Et maintenant, il y a :

26  **3** 

Combien en manquent-ils ? _____

As-tu compté en avant ou en arrière ?