

Nom : _____

QU'EST-CE QUI MANQUE?

Parfois, il est logique de compter vers l'avant pour savoir ce qui manque!

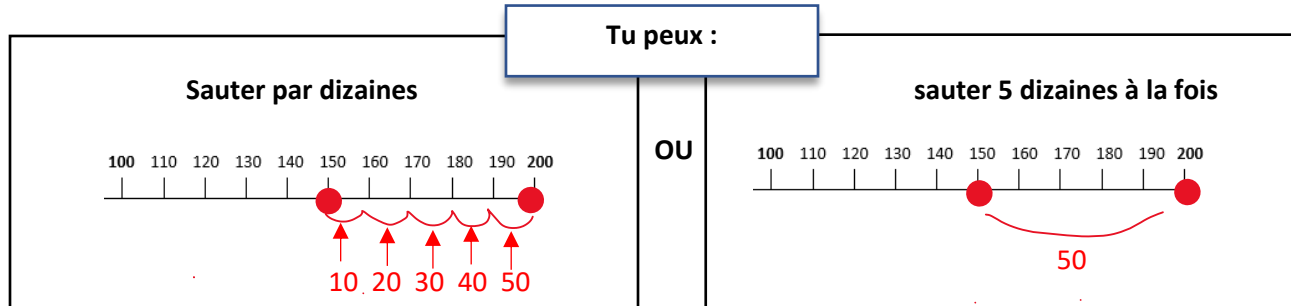
Il y avait:

Et maintenant il y a:

200   
Combien manquent-ils d'espaces ?

Étape 1 : mets un point sur 150 et un point sur 200.

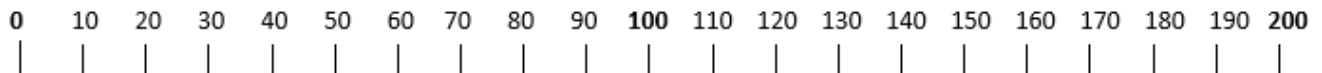
Étape 2 : Saute entre 150 et 200 pour savoir ce qui manque



Il y avait :

Et maintenant, il y a :



200   120 
Combien manquent-ils d'espaces :

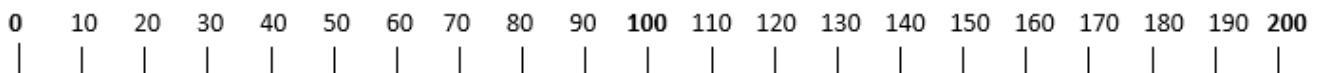


Qu'est-ce que tu as trouvé ? _____ blocs sont manquants !

Il y avait :

Et maintenant, il y a :

200   180 
Combien manquent-ils d'espaces ?




Qu'est-ce que tu as trouvé ? _____ blocs sont manquants !

Nom : _____

Il y avait :

Et maintenant, il y a :

200   **170** 
Combien manquent-ils d'espaces ?

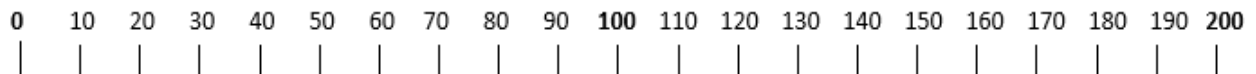


Qu'est-ce que tu as trouvé ? _____ blocs sont manquants !

Il y avait :

Et maintenant, il y a :

200   **140** 
Combien manquent-ils d'espaces ?

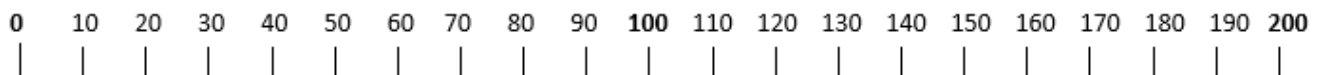


Qu'est-ce que tu as trouvé ? _____ blocs sont manquants !

Il y avait :

Et maintenant, il y a :




200   **160** 
Combien manquent-ils d'espaces ?

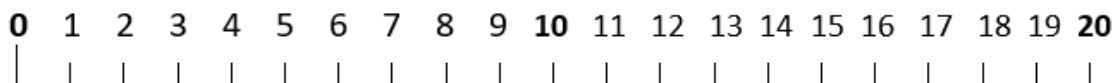


Qu'est-ce que tu as trouvé ? _____ blocs sont manquants !

Il y avait :

Et maintenant, il y a :

200   **190** 
Combien manquent-ils d'espaces ?



2

Qu'est-ce que tu as trouvé ? _____ blocs sont manquants !

Nom : _____

QU'EST-CE QUI MANQUE?

Parfois, il est logique de compter vers l'avant pour savoir ce qui manque !

Il y avait :

200 

Et maintenant, il y a :

20 

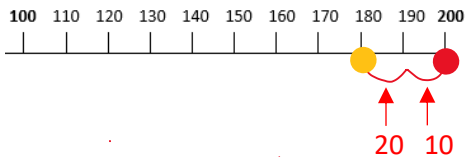
Combien manquent-ils d'espaces ?

Étape 1 : Mets un point sur 200

Étape 2 : À partir de 200, comptez deux dizaines pour savoir ce qui manque

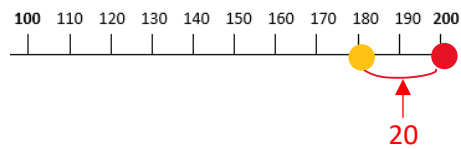
Tu peux :

Compter par dizaines



OR

Compter 2 dizaines à la fois



Qu'est-ce que tu as trouvé ? 18 blocs sont manquants !

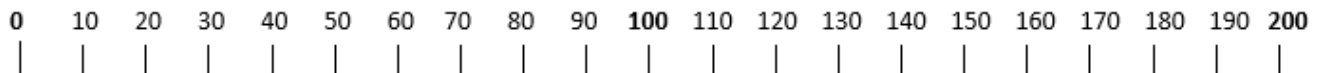
Il y avait :

200 

Et maintenant, il y a :

40 

Combien manquent-ils d'espaces ?



Qu'est-ce que tu as trouvé ? _____ blocs sont manquants !

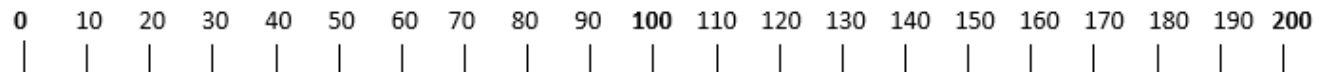
Il y avait :

200 

Et maintenant, il y a :

60 

Combien manquent-ils d'espaces ?



Qu'est-ce que tu as trouvé ? _____ blocs sont manquants !

Nom : _____

Il y avait :

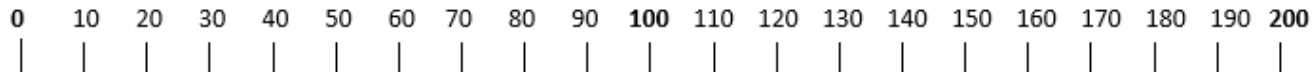
Et maintenant, il y a :

200 



50 

Combien manquent-ils d'espaces ?



Qu'est-ce que tu as trouvé ? _____ blocs sont manquants !

Il y avait :

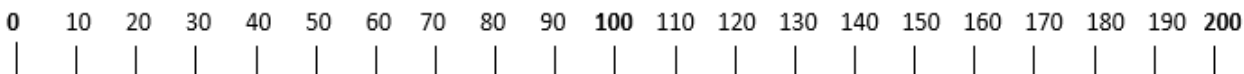
Et maintenant, il y a :

200 



10 

Combien manquent-ils d'espaces ?



Qu'est-ce que tu as trouvé ? _____ blocs sont manquants !

Il y avait :

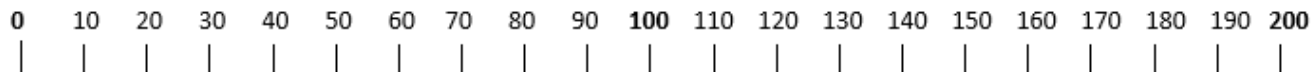
Et maintenant, il y a :

200 



70 

Combien manquent-ils d'espaces ?



Qu'est-ce que tu as trouvé ? _____ blocs sont manquants !

Il y avait :

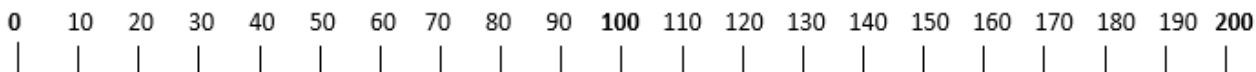
Et maintenant, il y a :

200 



30 

Combien manquent-ils d'espaces ?




Qu'est-ce que tu as trouvé ? _____ blocs sont manquants !

Nom : _____



 **QU'EST-CE QUI MANQUE?** 

Dois-tu compter en arrière ou en avant? À toi de décider !

Utilise la ligne de nombre pour sauter vers l'avant ou en arrière avec de grands ou petits sauts. Tu peux également imaginer une ligne de nombre.





Exemple Et maintenant, il y a :

170  **20** 

Combien en manquent-ils ? 150

As-tu compté en avant ou en arrière ?



Il y avait : Et maintenant, il y a :

190  **150** 

Combien en manquent-ils ? _____

As-tu compté en avant ou en arrière ?



Il y avait : Et maintenant, il y a :

120  **100** 

Combien en manquent-ils ? _____

As-tu compté en avant ou en arrière ?



Il y avait : Et maintenant, il y a :

160  **30** 

Combien en manquent-ils ? _____

As-tu compté en avant ou en arrière ?



Il y avait : Et maintenant, il y a :

190  **40** 

Combien en manquent-ils ? _____

As-tu compté en avant ou en arrière ?



Il y avait : Et maintenant, il y a :

90  **70** 

Combien en manquent-ils ? _____

As-tu compté en avant ou en arrière ?



Il y avait : Et maintenant, il y a :

130  **30** 

Combien en manquent-ils ? _____

As-tu compté en avant ou en arrière ?

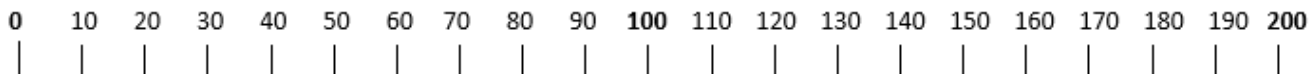
Il y avait : Et maintenant, il y a :

80  **10** 



Combien en manquent-ils ? _____

As-tu compté en avant ou en arrière ?

Nom : _____





Il y avait : Et maintenant, il y a :

180  **150** 

Combien en manquent-ils ? _____

As-tu compté en avant ou en arrière ?



Il y avait : Et maintenant, il y a :

170  **40** 

Combien en manquent-ils ? _____

As-tu compté en avant ou en arrière ?



Il y avait : Et maintenant, il y a :

160  **50** 

Combien en manquent-ils ? _____

As-tu compté en avant ou en arrière ?



Il y avait : Et maintenant, il y a :

100  **40** 

Combien en manquent-ils ? _____

As-tu compté en avant ou en arrière ?



Il y avait : Et maintenant, il y a :

190  **170** 

Combien en manquent-ils ? _____

As-tu compté en avant ou en arrière ?



Il y avait : Et maintenant, il y a :

110  **30** 

Combien en manquent-ils ? _____

As-tu compté en avant ou en arrière ?



Il y avait : Et maintenant, il y a :

160  **20** 

Combien en manquent-ils ? _____

As-tu compté en avant ou en arrière ?



Il y avait : Et maintenant, il y a :

120  **110** 

Combien en manquent-ils ? _____

As-tu compté en avant ou en arrière ?



Il y avait : Et maintenant, il y a :

180  **40** 

Combien en manquent-ils ? _____

As-tu compté en avant ou en arrière ?

Il y avait : Et maintenant, il y a :

130  **90** 

Combien en manquent-ils ? _____

As-tu compté en avant ou en arrière ?

Nom : _____

Dis-nous ce que tu penses !

Quand tu cherches ce qui manque, il y a plusieurs façons de le faire!

Encerle la réponse qui correspondent à tes pensées.

Compter en avant ou en arrière ?

- J'aime compter **en avant** le mieux
- J'aime mieux compter **en arrière**
- J'aime les deux

Compter un à la fois ou plusieurs à la fois

- Je choisis de compter un espace à la fois
- Je compte parfois un espace à la fois et parfois plus d'un espace à la fois
- Je compte souvent beaucoup d'espaces à la fois

Lignes de nombre

- Je trouve utile d'utiliser des lignes de nombres
- Je n'ai pas vraiment besoin d'utiliser des lignes de nombres

Ecris tes pensées sur le comptage en avant et le comptage en arrière ?

Quand choisis-tu de compter en avant ?

Quand choisis-tu de compter en arrière ?

Y a-t-il autre chose que tu aimerais partager avec nous ?