

Nom : _____

QU'EST-CE QUI MANQUE?

Parfois, il est logique de compter vers l'avant pour savoir ce qui manque!

Il y avait:

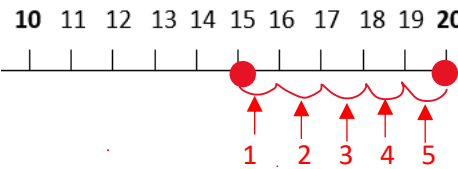
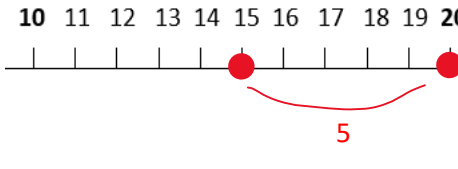
Et maintenant il y a:



Étape 1 : mets un point sur 15 et un point sur 20.

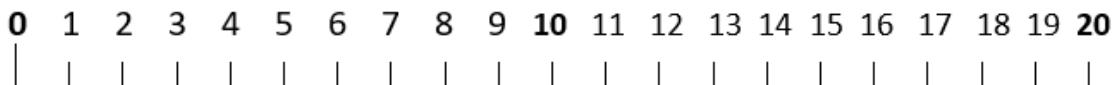
Étape 2 : Saute entre 15 et 20 pour savoir ce qui manque

Tu peux sauter :

<p>Un espace à la fois :</p> 	OU	<p>Plusieurs espaces :</p> 
---	-----------	--

Il y avait :

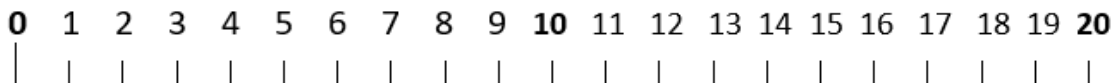
Et maintenant, il y a :



Qu'est-ce que tu as trouvé ? _____ blocs sont manquants !

Il y avait :

Et maintenant, il y a :



Qu'est-ce que tu as trouvé ? _____ blocs sont manquants !

Nom : _____

Il y avait :

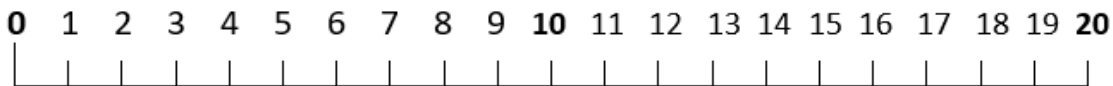
Et maintenant, il y a :

20 



12 

Combien manquent-ils d'espaces ?



Qu'est-ce que tu as trouvé ? _____ blocs sont manquants !

Il y avait :


Et maintenant, il y a :

20 



17 

Combien manquent-ils d'espaces ?



Qu'est-ce que tu as trouvé ? _____ blocs sont manquants !

Il y avait :

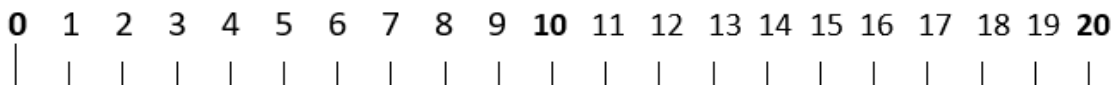
Et maintenant, il y a :

20 



14 

Combien manquent-ils d'espaces ?



Qu'est-ce que tu as trouvé ? _____ blocs sont manquants !

Il y avait :

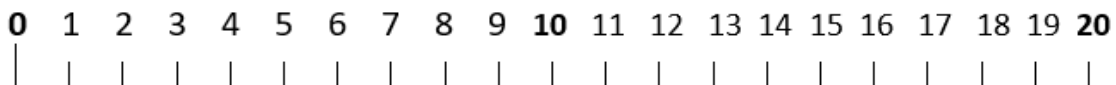
Et maintenant, il y a :

20 



13 

Combien manquent-ils d'espaces ?





Qu'est-ce que tu as trouvé ? _____ blocs sont manquants !

Nom : _____

QU'EST-CE QUI MANQUE?

Parfois, il est logique de compter vers l'avant pour savoir ce qui manque!

Il y avait : **20**  → Et maintenant, il y a : **2** 

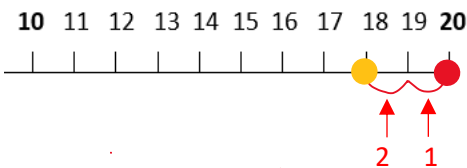
Combien manquent-ils d'espaces ?

Étape 1 : mets un point sur 20

Étape 2 : À partir de 20, compte deux espaces pour savoir ce qui manque

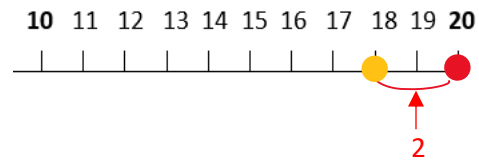
Tu peux sauter :

Un espace à la fois:



OU


Plusieurs espaces:




Qu'est-ce que tu as trouvé ? 18 blocs sont manquants !

Il y avait :

Et maintenant, il y a :

20  → **4** 

Combien manquent-ils d'espaces ?




Qu'est-ce que tu as trouvé ? _____ blocs sont manquants !

Il y avait :

Et maintenant, il y a :

20  → **6** 

Combien manquent-ils d'espaces ?



Qu'est-ce que tu as trouvé ? _____ blocs sont manquants !

Nom : _____

Il y avait :

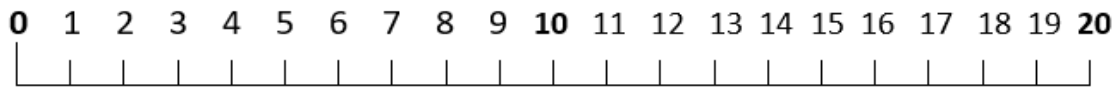
Et maintenant, il y a :

20 



5 

Combien manquent-ils d'espaces ?



Qu'est-ce que tu as trouvé ? _____ blocs sont manquants !

Il y avait :

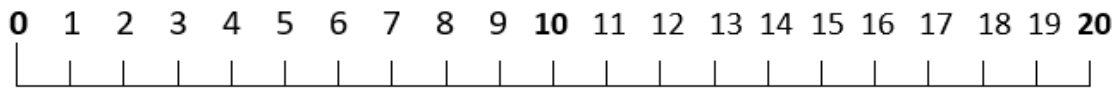
Et maintenant, il y a :

20 



1 

Combien manquent-ils d'espaces ?



Qu'est-ce que tu as trouvé ? _____ blocs sont manquants !

Il y avait :


Et maintenant, il y a :

20 



7 

Combien manquent-ils d'espaces ?



Qu'est-ce que tu as trouvé ? _____ blocs sont manquants !

Il y avait :

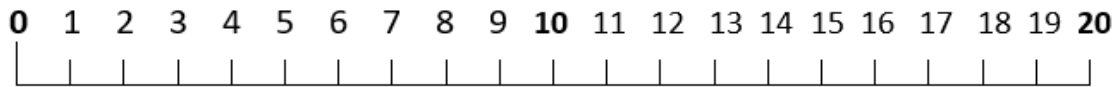
Et maintenant, il y a :

20 



3 

Combien manquent-ils d'espaces ?



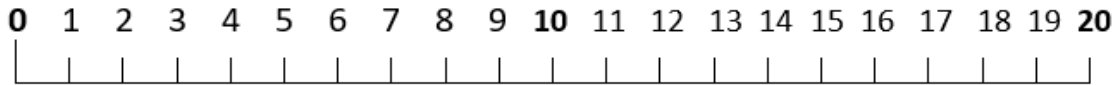
Qu'est-ce que tu as trouvé ? _____ blocs sont manquants !

Nom : _____

QU'EST-CE QUI MANQUE?

Dois-tu compter en arrière ou en avant? À toi de décider !

Utilise la ligne de nombre pour sauter vers l'avant ou en arrière avec de grands ou petits sauts. Tu peux également imaginer une ligne de nombre.



Exemple

Il y avait : Et maintenant, il y a :

17  **2** 

Combien en manquent-ils ? 15

As-tu compté en avant ou en arrière ?

Il y avait : Et maintenant, il y a :

19  **15** 

Combien en manquent-ils ? _____

As-tu compté en avant ou en arrière ?

Il y avait : Et maintenant, il y a :

12  **10** 

Combien en manquent-ils ? _____

As-tu compté en **avant** ou en **arrière** ?

Il y avait : Et maintenant, il y a :

16  **3** 

Combien en manquent-ils ? _____

As-tu compté en avant ou en arrière ?

Il y avait : Et maintenant, il y a :

19  **4** 

Combien en manquent-ils ? _____

As-tu compté en avant ou en arrière ?

Il y avait : Et maintenant, il y a :

9  **7** 

Combien en manquent-ils ? _____

As-tu compté en avant ou en arrière ?

Il y avait : Et maintenant, il y a :

13  **3** 

Combien en manquent-ils ? _____

As-tu compté en avant ou en arrière ?

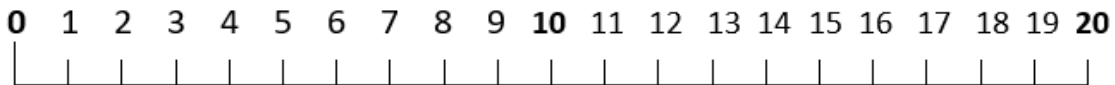
Il y avait : Et maintenant, il y a :

8  **1** 



Combien en manquent-ils ? _____

As-tu compté en avant ou en arrière ?

Nom : _____





Il y avait : Et maintenant, il y a :

18  **15** 

Combien en manquent-ils ? _____

As-tu compté en avant ou en arrière ?



Il y avait : Et maintenant, il y a :

17  **4** 

Combien en manquent-ils ? _____

As-tu compté en avant ou en arrière ?



Il y avait : Et maintenant, il y a :

16  **5** 

Combien en manquent-ils ? _____

As-tu compté en avant ou en arrière ?



Il y avait : Et maintenant, il y a :

10  **4** 

Combien en manquent-ils ? _____

As-tu compté en avant ou en arrière ?



Il y avait : Et maintenant, il y a :

19  **17** 

Combien en manquent-ils ? _____

As-tu compté en avant ou en arrière ?



Il y avait : Et maintenant, il y a :

11  **3** 

Combien en manquent-ils ? _____

As-tu compté en avant ou en arrière ?



Il y avait : Et maintenant, il y a :

16  **2** 

Combien en manquent-ils ? _____

As-tu compté en avant ou en arrière ?



Il y avait : Et maintenant, il y a :

12  **11** 

Combien en manquent-ils ? _____

As-tu compté en avant ou en arrière ?



Il y avait : Et maintenant, il y a :

18  **4** 

Combien en manquent-ils ? _____

As-tu compté en avant ou en arrière ?

Il y avait : Et maintenant, il y a :

13  **9** 

Combien en manquent-ils ? _____

As-tu compté en avant ou en arrière ?