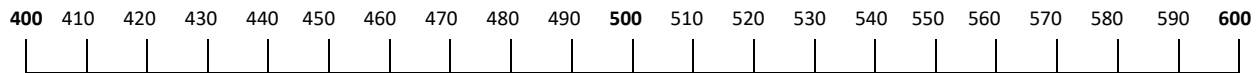


Nom: \_\_\_\_\_



 **QU'EST-CE QUI MANQUE?** 

Dois-tu compter en arrière ou en avant? À toi de décider !

Utilise la ligne de nombre pour sauter vers l'avant ou en arrière avec de grands ou petits sauts. Tu peux également imaginer une ligne de nombre.





Il y avait :      Et maintenant, il y a :

**530**       **420** 

Combien en manquent-ils ? \_\_\_\_\_

As-tu compté en avant ou en arrière ?



Il y avait :      Et maintenant, il y a :

**590**       **510** 

Combien en manquent-ils ? \_\_\_\_\_

As-tu compté en avant ou en arrière ?



Il y avait :      Et maintenant, il y a :

**440**       **30** 

Combien en manquent-ils ? \_\_\_\_\_

As-tu compté en avant ou en arrière ?



Il y avait :      Et maintenant, il y a :

**490**       **20** 

Combien en manquent-ils ? \_\_\_\_\_

As-tu compté en avant ou en arrière ?



Il y avait :      Et maintenant, il y a :

**580**       **40** 

Combien en manquent-ils ? \_\_\_\_\_

As-tu compté en avant ou en arrière ?



Il y avait :      Et maintenant, il y a :

**600**       **570** 

Combien en manquent-ils ? \_\_\_\_\_

As-tu compté en avant ou en arrière ?



Il y avait :      Et maintenant, il y a :

**450**       **30** 

Combien en manquent-ils ? \_\_\_\_\_

As-tu compté en avant ou en arrière ?

Il y avait :      Et maintenant, il y a :

**510**       **90** 



Combien en manquent-ils ? \_\_\_\_\_

As-tu compté en avant ou en arrière ?

Nom: \_\_\_\_\_





Il y avait : Et maintenant, il y a :

**480**  **50** 

Combien en manquent-ils ? \_\_\_\_\_

As-tu compté en avant ou en arrière ?



Il y avait : Et maintenant, il y a :

**570**  **590** 

Combien en manquent-ils ? \_\_\_\_\_

As-tu compté en avant ou en arrière ?



Il y avait : Et maintenant, il y a :

**460**  **50** 

Combien en manquent-ils ? \_\_\_\_\_

As-tu compté en avant ou en arrière ?



Il y avait : Et maintenant, il y a :

**500**  **20** 

Combien en manquent-ils ? \_\_\_\_\_

As-tu compté en avant ou en arrière ?



Il y avait : Et maintenant, il y a :

**490**  **90** 

Combien en manquent-ils ? \_\_\_\_\_

As-tu compté en avant ou en arrière ?



Il y avait : Et maintenant, il y a :

**510**  **60** 

Combien en manquent-ils ? \_\_\_\_\_

As-tu compté en avant ou en arrière ?



Il y avait : Et maintenant, il y a :

**560**  **420** 

Combien en manquent-ils ? \_\_\_\_\_

As-tu compté en avant ou en arrière ?



Il y avait : Et maintenant, il y a :

**520**  **90** 

Combien en manquent-ils ? \_\_\_\_\_

As-tu compté en avant ou en arrière ?



Il y avait : Et maintenant, il y a :

**580**  **500** 

Combien en manquent-ils ? \_\_\_\_\_

As-tu compté en avant ou en arrière ?

Il y avait : Et maintenant, il y a :

**600**  **10** 

Combien en manquent-ils ? \_\_\_\_\_

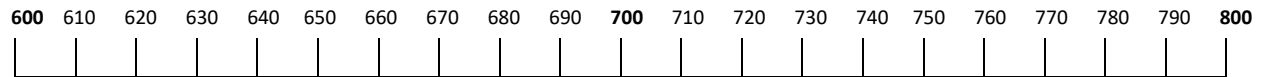
As-tu compté en avant ou en arrière ?

Nom: \_\_\_\_\_

 QU'EST-CE QUI MANQUE? 

Dois-tu compter en arrière ou en avant? À toi de décider !

Utilise la ligne de nombre pour sauter vers l'avant ou en arrière avec de grands ou petits sauts. Tu peux également imaginer une ligne de nombre.



Il y avait : Et maintenant, il y a :

**760**  **70** 

Combien en manquent-ils ? \_\_\_\_\_

As-tu compté en avant ou en arrière ?

Il y avait : Et maintenant, il y a :

**620**  **600** 

Combien en manquent-ils ? \_\_\_\_\_

As-tu compté en avant ou en arrière ?

Il y avait : Et maintenant, il y a :

**700**  **30** 

Combien en manquent-ils ? \_\_\_\_\_

As-tu compté en avant ou en arrière ?

Il y avait : Et maintenant, il y a :

**710**  **650** 

Combien en manquent-ils ? \_\_\_\_\_

As-tu compté en avant ou en arrière ?

Il y avait : Et maintenant, il y a :

**680**  **40** 

Combien en manquent-ils ? \_\_\_\_\_

As-tu compté en avant ou en arrière ?

Il y avait : Et maintenant, il y a :

**760**  **690** 

Combien en manquent-ils ? \_\_\_\_\_

As-tu compté en avant ou en arrière ?

Il y avait : Et maintenant, il y a :

**750**  **30** 

Combien en manquent-ils ? \_\_\_\_\_

As-tu compté en avant ou en arrière ?

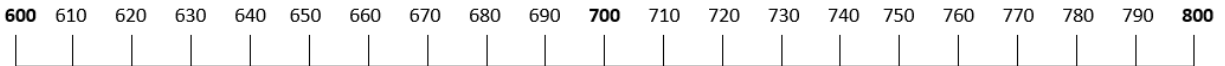
Il y avait : Et maintenant, il y a :

**710**  **680** 



Combien en manquent-ils ? \_\_\_\_\_

As-tu compté en avant ou en arrière ?

Nom: \_\_\_\_\_





Il y avait : Et maintenant, il y a :

**780**  **20** 

Combien en manquent-ils ? \_\_\_\_\_

As-tu compté en avant ou en arrière ?



Il y avait : Et maintenant, il y a :

**650**  **610** 

Combien en manquent-ils ? \_\_\_\_\_

As-tu compté en avant ou en arrière ?



Il y avait : Et maintenant, il y a :

**760**  **20** 

Combien en manquent-ils ? \_\_\_\_\_

As-tu compté en avant ou en arrière ?



Il y avait : Et maintenant, il y a :

**800**  **30** 

Combien en manquent-ils ? \_\_\_\_\_

As-tu compté en avant ou en arrière ?



Il y avait : Et maintenant, il y a :

**790**  **50** 

Combien en manquent-ils ? \_\_\_\_\_

As-tu compté en avant ou en arrière ?



Il y avait : Et maintenant, il y a :

**700**  **80** 

Combien en manquent-ils ? \_\_\_\_\_

As-tu compté en avant ou en arrière ?



Il y avait : Et maintenant, il y a :

**660**  **20** 

Combien en manquent-ils ? \_\_\_\_\_

As-tu compté en avant ou en arrière ?



Il y avait : Et maintenant, il y a :

**720**  **690** 

Combien en manquent-ils ? \_\_\_\_\_

As-tu compté en avant ou en arrière ?



Il y avait : Et maintenant, il y a :

**800**  **740** 

Combien en manquent-ils ? \_\_\_\_\_

As-tu compté en avant ou en arrière ?

Il y avait : Et maintenant, il y a :

**730**  **50** 

Combien en manquent-ils ? \_\_\_\_\_

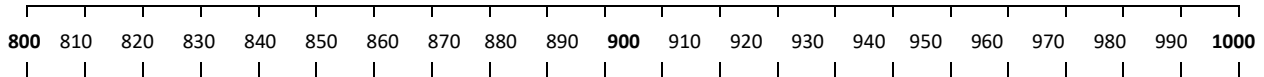
As-tu compté en avant ou en arrière ?

Nom: \_\_\_\_\_

 QU'EST-CE QUI MANQUE? 

Dois-tu compter en arrière ou en avant? À toi de décider !

Utilise la ligne de nombre pour sauter vers l'avant ou en arrière avec de grands ou petits sauts. Tu peux également imaginer une ligne de nombre.



Il y avait : Et maintenant, il y a :

**900**  **70** 

Combien en manquent-ils ? \_\_\_\_\_

As-tu compté en avant ou en arrière ?


Il y avait : Et maintenant, il y a :

**890**  **10** 

Combien en manquent-ils ? \_\_\_\_\_

As-tu compté en avant ou en arrière ?

Il y avait : Et maintenant, il y a :

**920**  **890** 

Combien en manquent-ils ? \_\_\_\_\_

As-tu compté en avant ou en arrière ?

Il y avait : Et maintenant, il y a :

**850**  **20** 

Combien en manquent-ils ? \_\_\_\_\_

As-tu compté en avant ou en arrière ?

Il y avait : Et maintenant, il y a :

**980**  **940** 

Combien en manquent-ils ? \_\_\_\_\_

As-tu compté en avant ou en arrière ?


Il y avait : Et maintenant, il y a :

**1000**  **70** 

Combien en manquent-ils ? \_\_\_\_\_

As-tu compté en avant ou en arrière ?

Il y avait : Et maintenant, il y a :

**1000**  **930** 

Combien en manquent-ils ? \_\_\_\_\_

As-tu compté en avant ou en arrière ?

Il y avait : Et maintenant, il y a :

**910**  **890** 



Combien en manquent-ils ? \_\_\_\_\_

As-tu compté en avant ou en arrière ?

Nom: \_\_\_\_\_





Il y avait :      Et maintenant, il y a :

**900**       **840** 

Combien en manquent-ils ? \_\_\_\_\_

As-tu compté en avant ou en arrière ?



Il y avait :      Et maintenant, il y a :

**870**       **10** 

Combien en manquent-ils ? \_\_\_\_\_

As-tu compté en avant ou en arrière ?



Il y avait :      Et maintenant, il y a :

**960**       **950** 

Combien en manquent-ils ? \_\_\_\_\_

As-tu compté en avant ou en arrière ?



Il y avait :      Et maintenant, il y a :

**990**       **70** 

Combien en manquent-ils ? \_\_\_\_\_

As-tu compté en avant ou en arrière ?



Il y avait :      Et maintenant, il y a :

**890**       **800** 

Combien en manquent-ils ? \_\_\_\_\_

As-tu compté en avant ou en arrière ?



Il y avait :      Et maintenant, il y a :

**910**       **50** 

Combien en manquent-ils ? \_\_\_\_\_

As-tu compté en avant ou en arrière ?



Il y avait :      Et maintenant, il y a :

**960**       **920** 

Combien en manquent-ils ? \_\_\_\_\_

As-tu compté en avant ou en arrière ?



Il y avait :      Et maintenant, il y a :

**820**       **20** 

Combien en manquent-ils ? \_\_\_\_\_

As-tu compté en avant ou en arrière ?



Il y avait :      Et maintenant, il y a :

**980**       **100** 

Combien en manquent-ils ? \_\_\_\_\_

As-tu compté en avant ou en arrière ?

Il y avait :      Et maintenant, il y a :

**930**       **70** 

Combien en manquent-ils ? \_\_\_\_\_

As-tu compté en avant ou en arrière ?